

**Nombre:** \_\_\_\_\_

*Escribe una V en las frases verdaderas y una F en las falsas. Después, corrige las falsas.*

- *Varias sierras juntas forman una cordillera o un sistema montañoso.*
- *Los terrenos planos situados a una cierta altura se llaman mesetas.*
- *Las lagunas forman parte de las aguas marinas.*
- *Las aguas subterráneas son las que se encuentran por debajo de la superficie del suelo y nunca salen a la superficie terrestre.*

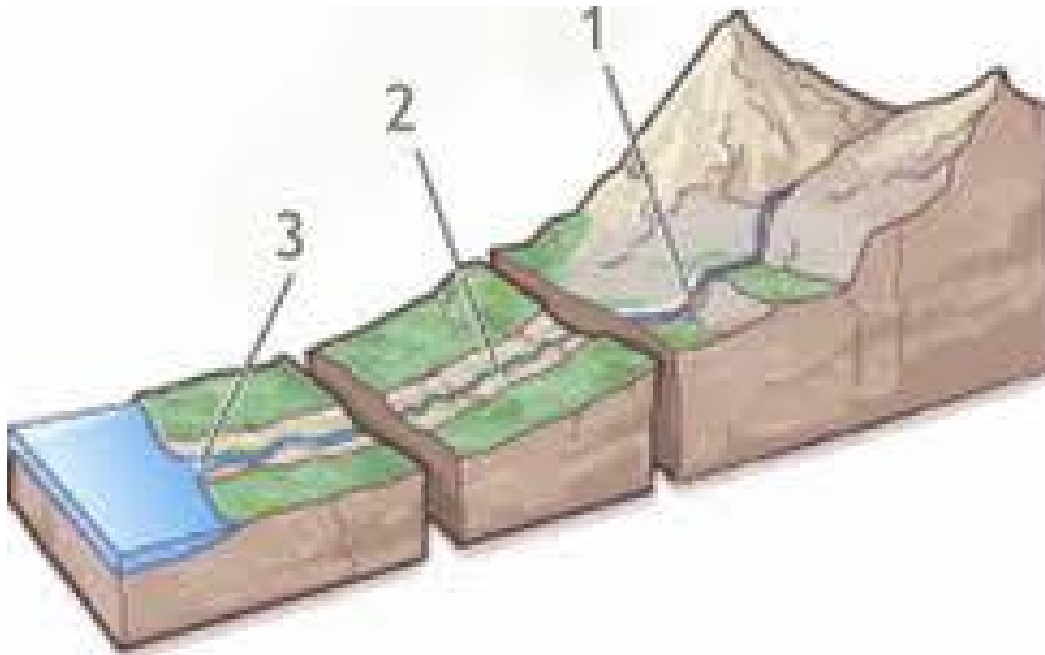
**Nombre:** \_\_\_\_\_

*Haz un dibujo y señala los siguientes elementos del paisaje:*

*acantilado - bahía - playa - cabo - isla*

Nombre: \_\_\_\_\_

Señala los cursos del río en la imagen.



Une con flechas las dos columnas

Lago

Caudal

Montaña

Colina

Pequeña elevación del terreno.

Elevación del terreno con grandes desniveles.

Cantidad de agua que lleva un río.

Gran cantidad de agua rodeada de tierra.

**Nombre:** \_\_\_\_\_

*¿A qué llamamos elementos naturales de un paisaje?*

*Los cambios que se producen en un paisaje pueden ser naturales o artificiales. Pon dos ejemplos de cada uno de ellos.*

**Nombre:** \_\_\_\_\_

*Responde*

*¿Cuál es la diferencia entre un cerro y una llanura?*

*En que se diferencian un lago y un embalse*

*¿Cuáles son las tres partes de una montaña?*

*Explica por qué aunque el Sol es mucho mas grande que la Luna, a primera vista parece mucho más pequeño.*

**Nombre:** \_\_\_\_\_

*¿Cuándo se declara un espacio protegido? ¿Por qué son importantes los espacios protegidos?*

*Completa.*

*El agua es, \_\_\_\_\_, \_\_\_\_\_ e*  
\_\_\_\_\_.

*Los estados del agua son \_\_\_\_\_,*  
\_\_\_\_\_  
\_\_\_\_\_.

Nombre: \_\_\_\_\_

*Señala los elementos del paisaje*



*Río, carretera, montaña, valle, pueblo, túnel, puente.*

*De esos elementos*

*Son elementos naturales:*

\_\_\_\_\_

*Son elementos artificiales:*

\_\_\_\_\_

Nombre: \_\_\_\_\_

*Une las dos columnas con flechas*

Terrazas

Acequias

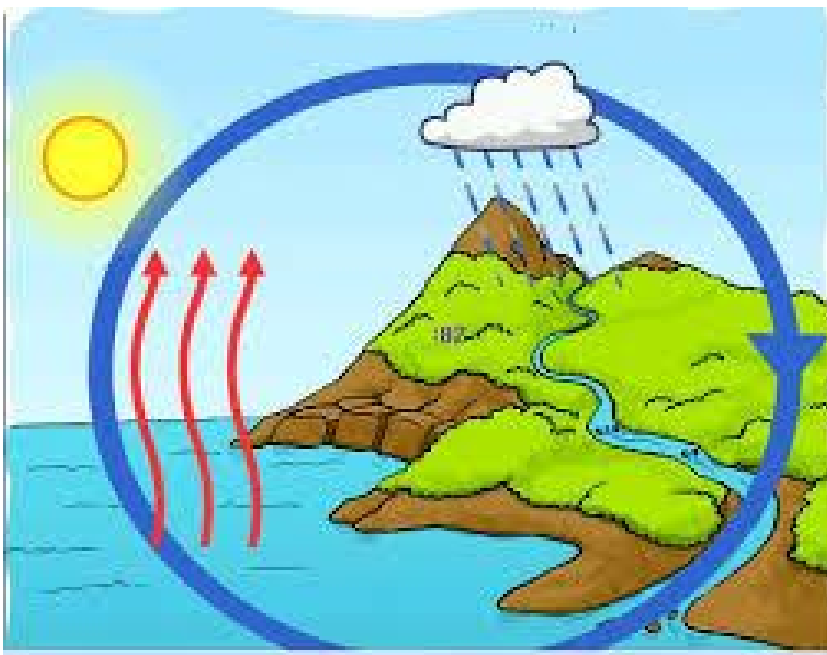
Cultivos

*Desviación del cauce de los ríos.*

*Modificación del terreno en forma de escalones.*

*Sustitución de la vegetación natural.*

*Observa el dibujo y explica que sucede con el agua.*





**Nombre:** \_\_\_\_\_

*Escribe V en la frase verdadera y una F en la falsa, después corrige la falsa.*

- Los campos de cultivo son elementos naturales del paisaje.
- Los espacios protegidos reciben distintos nombres como parques nacionales, parques naturales, parques regionales...

*Señala algunas acciones necesarias para cuidar el paisaje de algún lugar.*

**Nombre:** \_\_\_\_\_

*Escribe una V en las frases verdaderas y una F en las falsas. Después, corrige las falsas.*

- *El centro histórico es la parte más moderna de la ciudad y tiene calles amplias y largas con elevados rascacielos.*
- *Los pueblos son localidades de pequeña extensión y con pocos habitantes.*
- *Las aceras son las zonas de la calle por las que circulan los coches.*

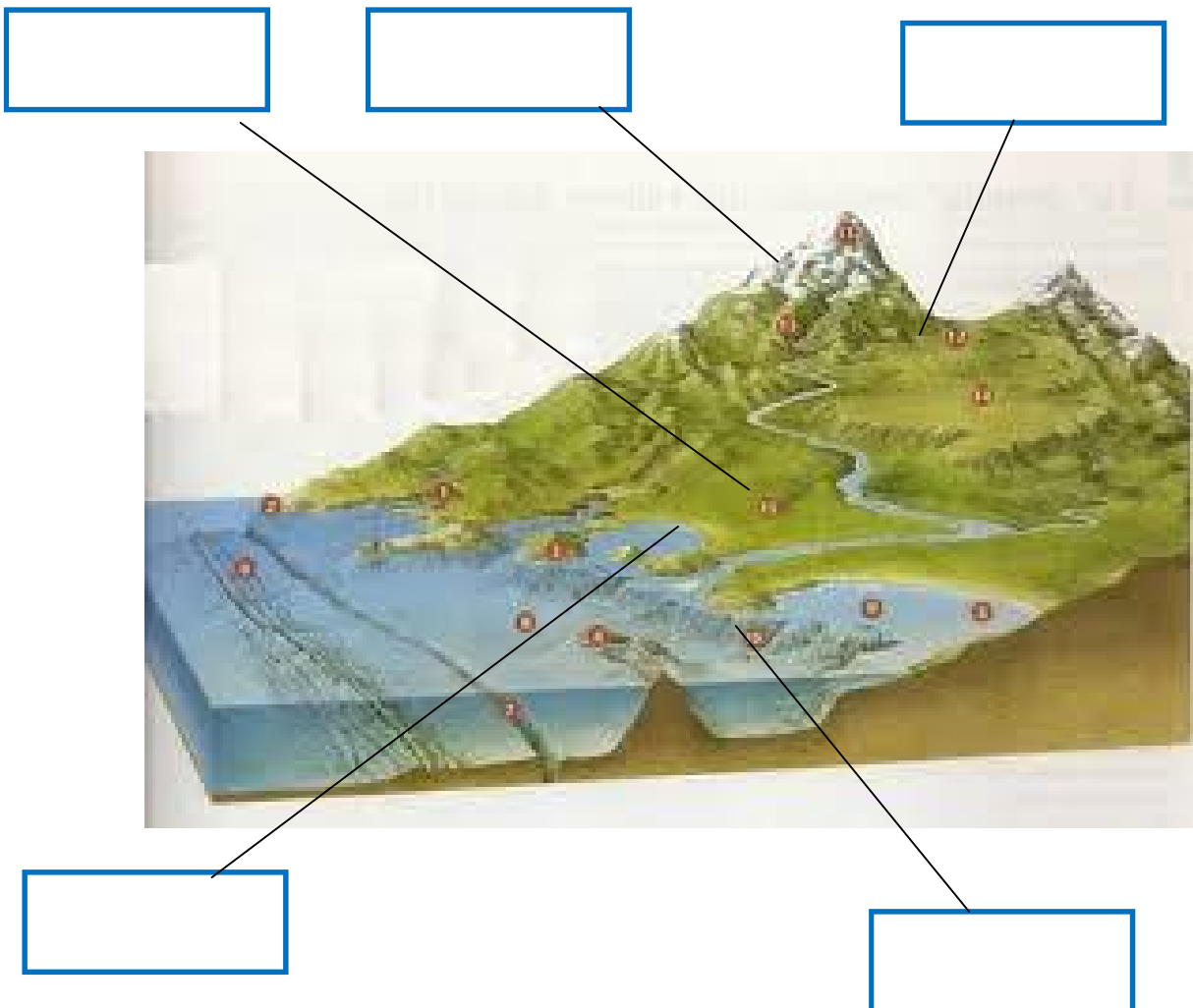
*Pon tres ejemplos de edificios públicos que haya en tu localidad*

Nombre: \_\_\_\_\_

Completa

Las principales formas de relieve son \_\_\_\_\_

Señala las principales formas de relieve: montaña, costa baja, costa alta, llanura y valle.



**Nombre:** \_\_\_\_\_

*Define*

- *Población Urbana*
  
  
  
  
  
  
  
  
  
  
- *Población Rural*

*Escribe tres diferencias entre el pueblo y la ciudad.*

Nombre: \_\_\_\_\_

*Une las dos columnas mediante flechas.*

Alcalde  
Concejales  
Ciudadanos

Eligen a los concejales.  
Dirige el gobierno municipal.  
Gobiernan el municipio y eligen al alcalde.

*Escribe una V en las frases verdaderas y una F en las falsas.*

- Una sola localidad forma un municipio, los municipios gobiernan los Ayuntamientos.
- Las fiestas patronales tienen un origen muy reciente.
- Las elecciones municipales se convocan cada cuatro años y a ellas se presentan distintos partidos políticos o asociaciones.
- Los concejales y el alcalde forman el gobierno municipal.
- Los impuestos municipales los pagan todos los ciudadanos.


**Nombre:** \_\_\_\_\_

*Explica con tus palabras el proceso electoral.*

*Explica que son las tradiciones y cita dos de tu municipio*

Nombre: \_\_\_\_\_

*Clasifica estos animales.*



VERTEBRADOS

INVERTEBRADOS

**Nombre:** \_\_\_\_\_

*Uno de los servicios más importantes para la localidad es el de la organización del tráfico. Describe dos acciones correctas en educación vial.*

*Escribe tres ejemplos de servicios municipales que utilices con frecuencia*



Nombre: \_\_\_\_\_

Escribe a que tipo de pueblo (llanura, montaña, costa),  
corresponde.



Completa

Los pueblos son localidades \_\_\_\_\_, con  
casas \_\_\_\_\_ y calles \_\_\_\_\_.

**Nombre:** \_\_\_\_\_

*Las señales de tráfico y los semáforos, facilitan la circulación en las localidades. Piensa y escribe que pasaría si desapareciesen.*

Nombre: \_\_\_\_\_

Clasifica los animales

MAMÍFEROS	AVES	PECES	REPTILES	INSECTOS	ANFIBIOS



**Nombre:** \_\_\_\_\_

*Completa*

*Los trabajos se pueden agrupar en :*

*Para que un producto llegue a nuestras casas, intervienen muchos trabajadores:*

*Escribe dos medios de transporte de cada tipo*

Tierra

Mar

Aire

*Cómo son cada uno de los tipos de comercio, tienda, mercado, supermercado y centro comercial.*

**Nombre:** \_\_\_\_\_

*Los trabajadores de la obra llevan casco. Imagina que trabajas tú en una obra ¿Por qué lo llevarías?*

*Escribe dos ejemplos de máquinas que funciones*

*Con la fuerza de las personas*

*Con electricidad*

*Con gasolina*

Nombre: \_\_\_\_\_

*Completa los elementos del paisaje*



*Montaña, isla, valle, ladera, playa, pie, llanura, cima, acantilado*



**Nombre:** \_\_\_\_\_

*¿En qué estado podemos encontrar el agua? Dibuja el agua en cada uno de los estados.*

*Clasifica los siguientes elementos del paisaje.*

**Sierras, acantilados, playas, bosques, colinas, cultivos**

**Montaña**

**Llanura**

**Costa**

--	--	--



**Nombre:** \_\_\_\_\_

*Dibuja un paisaje natural de tu localidad*

*¿Cuánto tiempo tarda la Tierra en dar una vuelta completa sobre sí misma?*