

Nombre: _____

Las señales de tráfico y los semáforos, facilitan la circulación en las localidades. Piensa y escribe que pasaría si desapareciesen.

Nombre: _____

Escribe a que tipo de pueblo (llanura, montaña, costa),
corresponde.



Completa

Los pueblos son localidades _____, con
casas _____ y calles _____.

Nombre: _____

¿Cómo es la ciudad?

La ciudad es una localidad _____ . Tiene edificios _____ y calles _____ y _____ . En la ciudad viven _____ y circulan _____ .

¿Quién trabaja en estos servicios?

| | |
|------------------------|--|
| Organiza el trafico | |
| Recoge las basuras | |
| Riega los jardines | |
| Organiza la biblioteca | |
| Limpia las calles | |

Nombre: _____

Explica como se eligen al alcalde y los concejales

¿Qué significan estas señales? Une.



Dirección
obligatoria

Carril bici

Dirección
prohibida

Paso de
peatones

Parada de
autobus

Nombre: _____

Completa

Los trabajos se pueden agrupar en :

Para que un producto llegue a nuestras casas, intervienen muchos trabajadores:

Escribe dos medios de transporte de cada tipo

Tierra


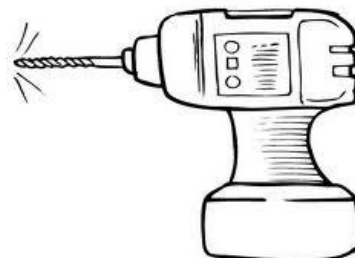

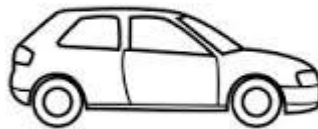
Mar

Aire

Cómo son cada uno de los tipos de comercio, tienda, mercado, supermercado y centro comercial.

Nombre: _____

Tacha lo que produce contaminación acústica y rodea los sonidos agradables.



Nombre: _____

Escribe dos productos que se vendan en cada comercio

Farmacia

Ferretería

Mercería

Papelería

¿Cómo son los transportes según lo que trasladen?

Nombre: _____

Une los elementos con el tipo de paisaje

Río

MONTAÑA

Playa

Puerto

PAISAJE
PESQUERO

Acantilado


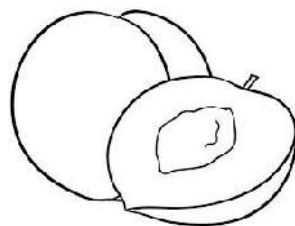
Puente

Tunel

Escribe el nombre del árbol que da cada fruto y colorea así

Frutos carnosos: naranja

Frutos secos: marrón



Nombre: _____

Los trabajadores de la obra llevan casco. Imagina que trabajas tú en una obra ¿Por qué lo llevarías?

Escribe dos ejemplos de máquinas que funciones

Con la fuerza de las personas

Con electricidad

Con gasolina

Nombre: _____

¿Qué son los inventos?

¿Por qué crees que el descubrimiento de la electricidad fue importante para inventar el ordenador?

¿Qué son los ordenadores?

Nombre: _____

Dibuja un ordenador y señala las partes: Caja o CPU, ratón, Monitor o pantalla, teclado, impresora, cámara web.

Nombra cuatro elementos de un pueblo costero

| |
|--|
| |
| |
| |
| |
| |
| |

Responde las preguntas

¿Qué función tiene el corazón?

¿Qué órganos se llenan de aire al respirar?

Nombre: _____

Explica para que sirve internet

Une

Agua dulce

Esta en el mar

Se puede beber

Agua salada

Esta en los ríos

No se puede beber

Nombre: _____

La época de las cuevas

¿Dónde vivían las personas?

¿Cómo se alimentaban?

¿Qué cosas hacían?

Completa

La Tierra al girar sobre si misma da lugar a _____ . La Tierra se desplaza alrededor del Sol y da lugar a _____ . Las fases de la Luna son cuatro _____

Nombra cuatro elementos de una ciudad.

Nombre: _____

La época de los romanos

¿Dónde vivían las personas?

¿Cómo se alimentaban?

¿Qué cosas hacían?

Nombra algún invento romano.

Dibuja las diferentes etapas de la reproducción de la planta.

Nombre: _____

La época de los castillos

¿Dónde vivían las personas?

¿Cómo se alimentaban?

¿Qué cosas hacían?

Imagina como era su vida

Dibuja un paisaje de pueblo de montaña

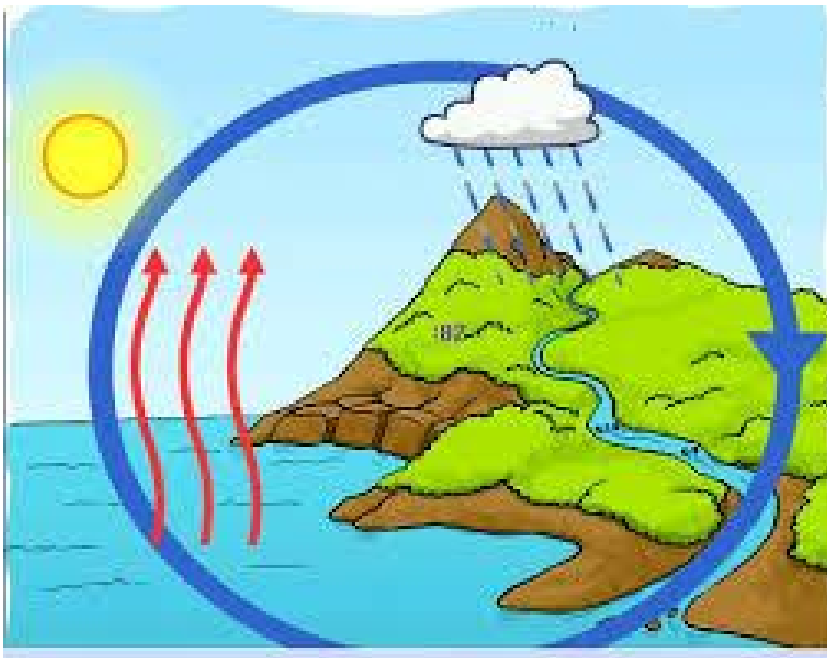
Nombre: _____

Completa. *¿Cómo es el aire?*

El aire es una mezcla de _____ que rodea la _____ . El aire no tiene _____. El aire se _____ y decimos que hay _____. Necesitamos el aire para vivir, entre los gases que forman el aire, esta el _____ que lo necesitamos para respirar.

Oxígeno, Tierra , mueve, gases, forma, viento.

Observa el dibujo y explica que sucede con el agua.



Nombre: _____

La época de los inventos

¿Dónde vivían las personas?

¿Cómo se alimentaban?

¿Qué cosas hacían?

¿Por qué crees que las ciudades crecieron en esta época?

Escribe un invento de cada época: época de las cavernas, época de los romanos, época de los castillos, época de los inventos.

Nombre: _____

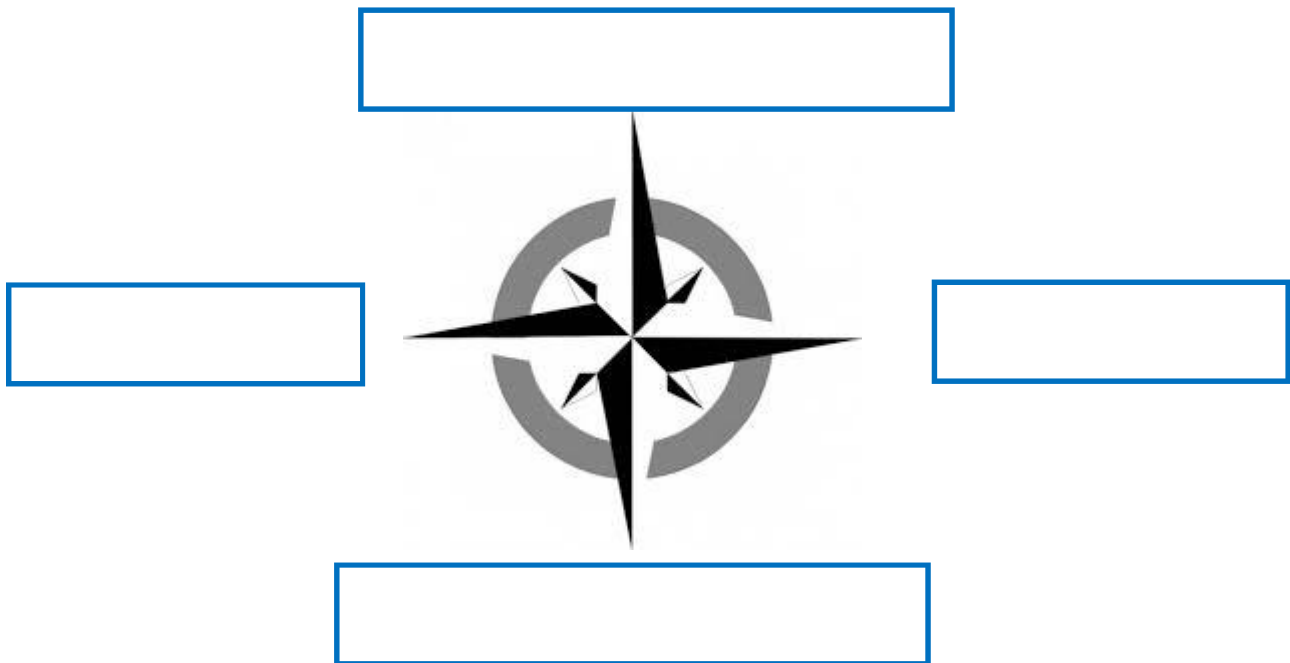
Clasifica los animales

| MAMÍFEROS | AVES | PECES | REPTILES | INSECTOS | ANFIBIOS |
|-----------|------|-------|----------|----------|----------|
| | | | | | |

Nombre: _____

Explica como es tu localidad

Completa los puntos cardinales



Nombre: _____

Completa los elementos del paisaje



Montaña, isla, valle, ladera, playa, pie, llanura, cima, acantilado



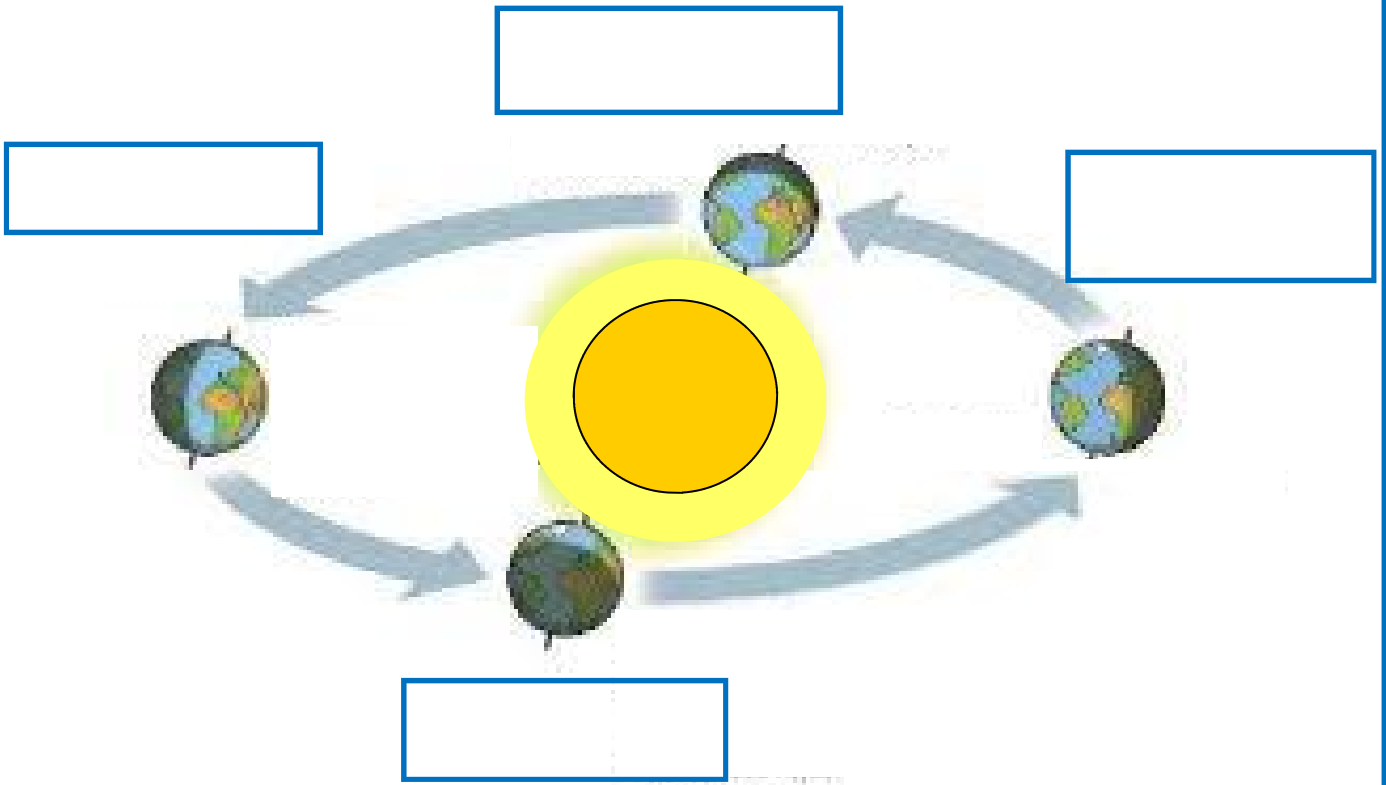
Nombre: _____

Dibuja un paisaje natural de tu localidad

¿Cuánto tiempo tarda la Tierra en dar una vuelta completa sobre sí misma?

Nombre: _____

Escribe el nombre de cada estación



¿Cuáles son las cuatro fases de la luna?

Nombre: _____

Escribe dos fiestas que se celebren en cada estación del año en tu localidad.

¿Qué tipos de plantas son? Coloca cada una en su lugar correspondiente.

Tulipán, encina, boj, abeto, laurel, pino, tomillo, menta,

Árbol

Arbusto

Hierba

Nombre: _____

Dibuja la bandera de tu comunidad.

Clasifica los siguientes elementos del paisaje.

Sierras, acantilados, playas, bosques, colinas, cultivos

Montaña

Llanura

Costa

| | | |
|--|--|--|
| | | |
|--|--|--|

Nombre: _____

Escribe las diferencias entre un pueblo y una ciudad.

¿Quién forma el gobierno de tu comunidad?