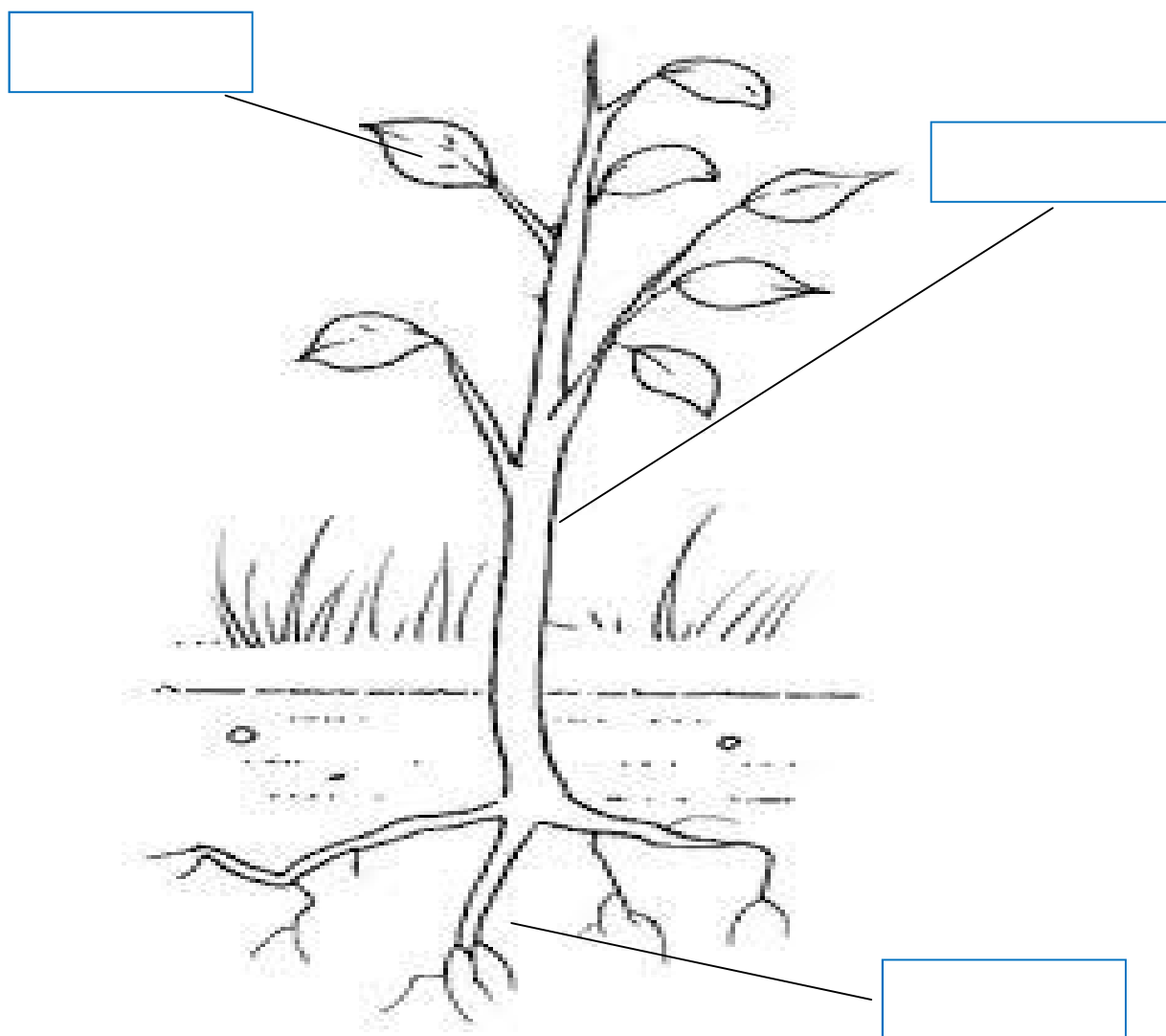


Nombre: _____

Colorea y señala las partes de la planta.



Nombre: _____

Rodea los nombres que sean partes de una flor

Tallo raíz bellota pétalos
Estambres pistilo tronco sépalos

Dibuja una flor y señala las partes rodeadas en la actividad anterior.

Nombre: _____

Escribe SI o NO y completa la frase

	Si / NO
El agua no tiene color ni olor	
El agua tiene sabor	
El zumo de naranja no tiene color	
La leche tiene sabor	






Completa.

*El agua es, _____, _____ e
_____.*

Dibuja diferentes expresiones faciales que puedes hacer con los músculos de la cara: alegría, tristeza, miedo, enfado, sorpresa.

Nombre: _____

Señala según corresponda

					
SÓLIDO					
LÍQUIDO					
GASEOSO					

¿En que parte del esqueleto (cabeza, tronco, extremidades) se encuentran estas articulaciones?

Cadera

Codo

Tobillo

Rodilla

Muñeca

Nombre: _____


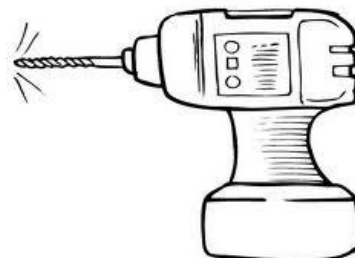

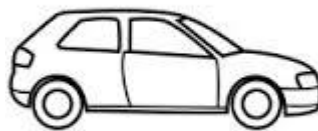
Señala correcto o incorrecto

	CORRECTO/ INCORRECTO
Echar basura fuera de los contenedores no	
El humo de los coches, de las fabricas, de las calefacciones contamina el aire.	
Los vertidos y el petróleo no contaminan las aguas.	
Separar la basura es importante para el medio ambiente.	

Dibuja tres tipos de residuos que echarías al contenedor de basura orgánica y tres que echarías al de basura inorgánica.

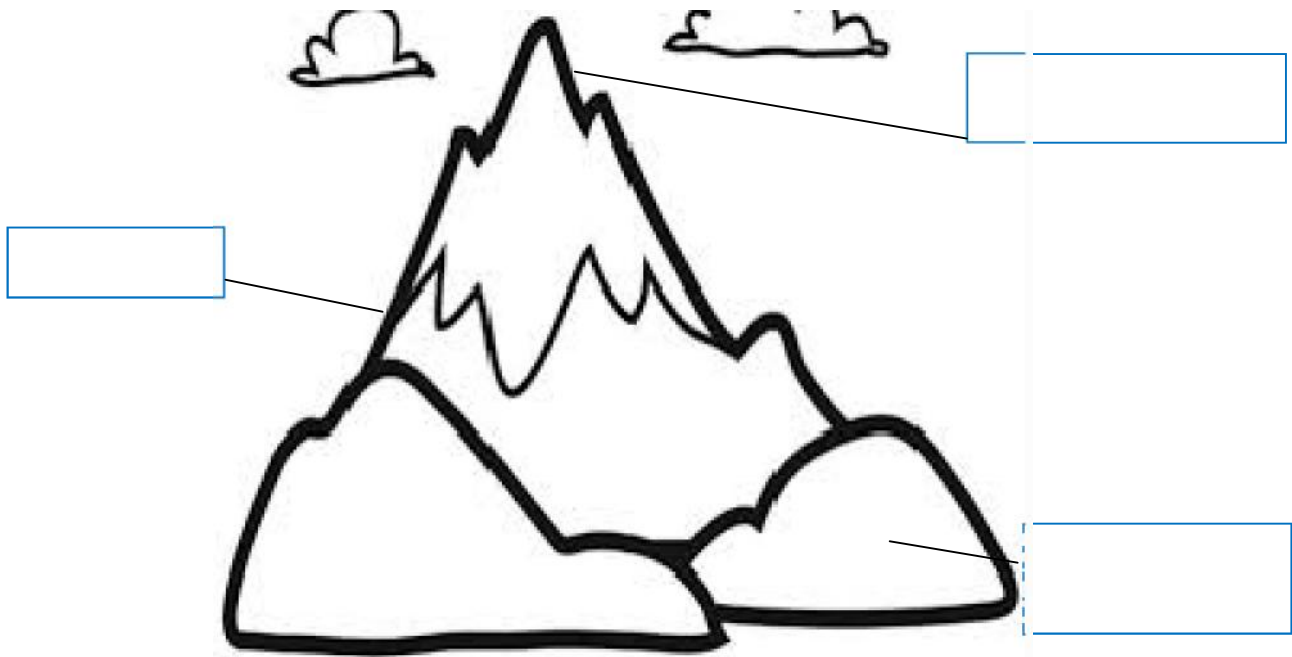
Nombre: _____

Tacha lo que produce contaminación acústica y rodea los sonidos agradables.



Nombre: _____

Escribe las partes de la montaña y ordena las frases



En invierno en la cima hay _____

En la _____ hay ríos.

La parte baja de la montaña es el _____.

Nombre: _____

Une los elementos con el tipo de paisaje

Río

MONTAÑA

Playa

Puerto

PAISAJE

Acantilado

PESQUERO


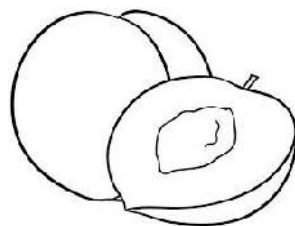
Puente

Tunel

Escribe el nombre del árbol que da cada fruto y colorea así

Frutos carnosos: naranja

Frutos secos: marrón



Nombre: _____

Une según corresponda

Tienen tronco duro.

Hierbas

Tienen varios tallos.

Árboles

Tienen tallos blandos.

Arbustos

Completa la frase.

Los árboles que siempre tienen sus hojas, son árboles de hoja _____. Los árboles que pierden las hojas en otoño son árboles de hoja _____.

Escribe tres alimentos que se obtienen de

Los animales:

Las plantas:

Nombre: _____

Escribe el nombre correspondiente a cada definición.

Sólido nube líquido potable lluvia

Agua que se puede beber.

La forma del agua del mar evaporada.

Agua que cae cuando la nube se enfría.

Estado del agua de la ducha.

Estado del agua de los cubitos de hielo.

Completa.

La sangre es un líquido de color _____ que circula por las _____ y las _____. Y llega a todas las partes del _____. Lleva el oxígeno y los alimentos.

Nombre: _____

Encuentra y escribe cuatro elementos del paisaje

C S R F A R O T H O

L Q I C T G S P K G

L B O S N B T L S T

S M O N T A Ñ A Z S

A T P S L L O Y T O

A C A N T I L A D O

Nombra cuatro elementos de un paisaje costero

Responde las preguntas

¿Qué función tiene el corazón?

¿Qué órganos se llenan de aire al respirar?

Nombre: _____

PLANTAS. Completa las oraciones

En el _____ se encuentran las semillas.

Por las _____ la planta recibe luz y toma aire.

Por la _____ la planta toma agua y otras sustancias.

La _____ cambia y se convierte en fruto.

La _____ se convierte en una planta.

Une

Agua dulce

Esta en el mar

Se puede beber

Agua salada

Esta en los ríos

No se puede beber

Nombre: _____

Escribe el nombre de dos meses de cada estación

PRIMAVERA

VERANO

OTOÑO

INVIERNO

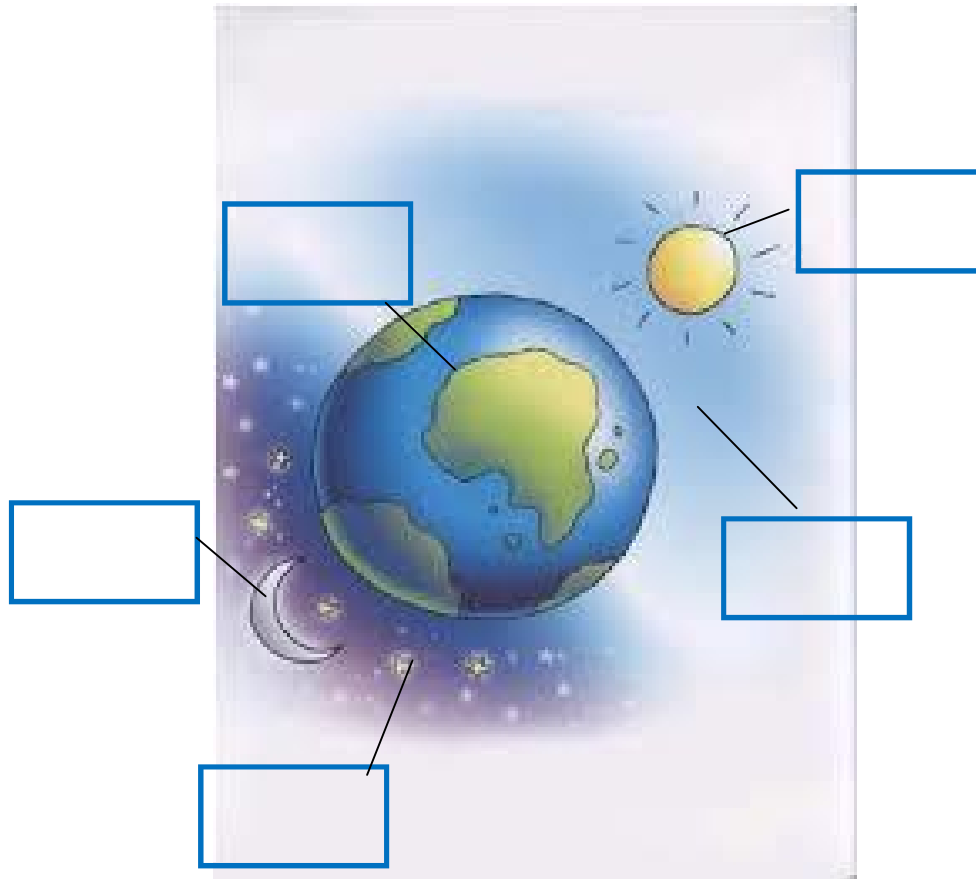
Completa

La Tierra al girar sobre si misma da lugar a _____ . La Tierra se desplaza alrededor del Sol y da lugar a _____ . Las fases de la Luna son cuatro _____

Nombra cuatro elementos del paisaje de montaña.

Nombre: _____

Escribe donde corresponda: Sol, luna, Tierra, día, noche



Completa

La Tierra	Gira	Tarda
	Se mueve alrededor de	Tarda

Nombre: _____

¿Cómo se reproducen las plantas? Completa

Primero cae una _____ al suelo. A continuación nace _____. Luego la planta _____ y salen _____. Después las flores _____ y finalmente _____.

Dibuja las diferentes etapas de la reproducción de la planta, basándote en la actividad anterior.

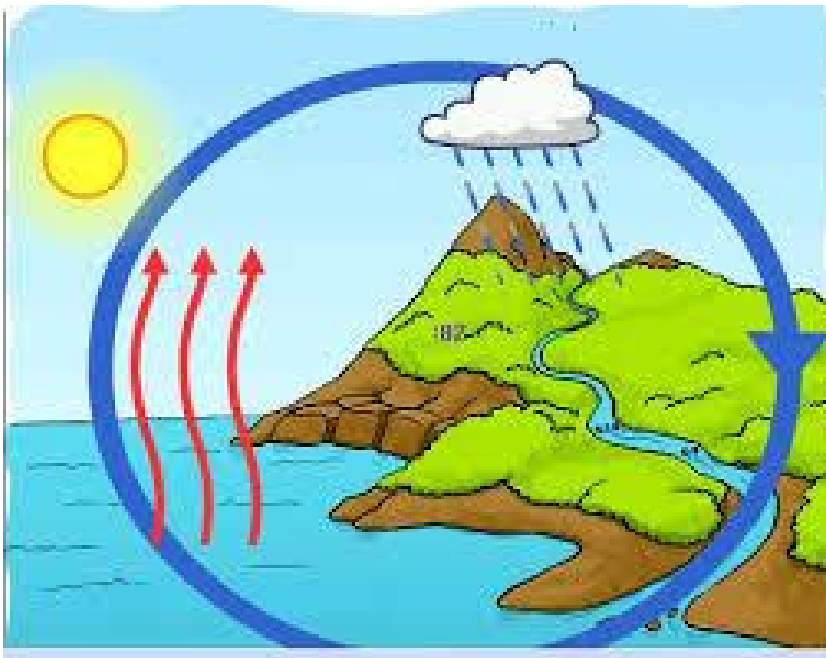
Nombre: _____

Completa. *¿Cómo es el aire?*

El aire es una mezcla de _____ que rodea la _____. El aire no tiene _____. El aire se _____ y decimos que hay _____. Necesitamos el aire para vivir, entre los gases que forman el aire, esta el _____ que lo necesitamos para respirar.

Oxígeno, Tierra , mueve, gases, forma, viento.

Observa el dibujo y explica que sucede con el agua.



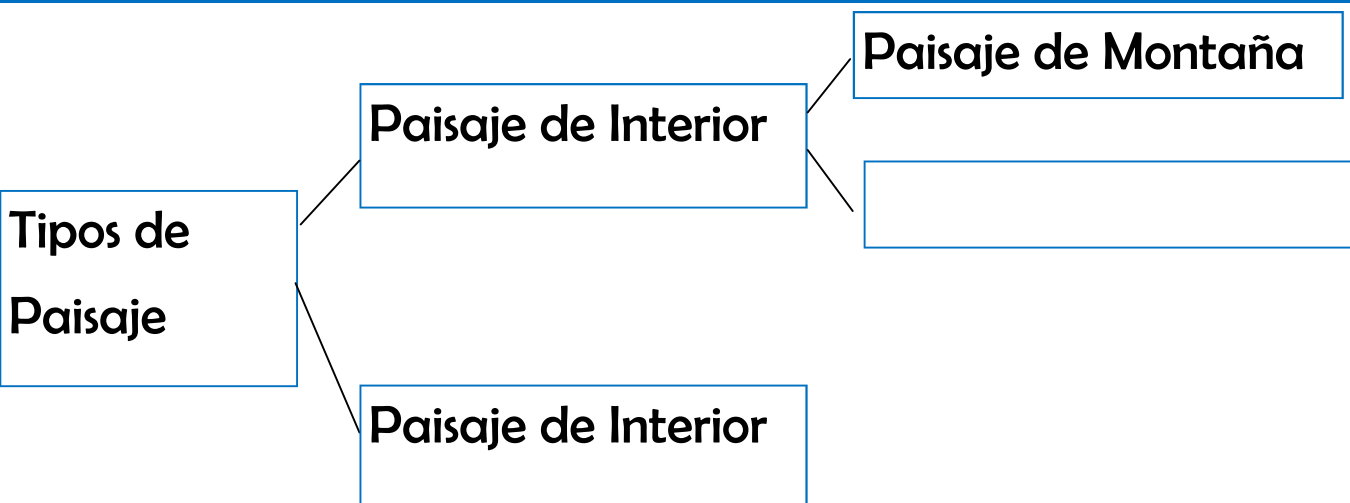
Nombre: _____

¿Qué puedes hacer para cuidar del medio ambiente?

	<i>Cerrar el grifo mientras te cepillas los dientes</i>
	<i>Tirar la basura en la calle.</i>
	<i>Bañarte en lugar de ducharte.</i>
	<i>Apagar las luces que no necesites.</i>
	<i>Cuidar de los animales y de las plantas.</i>
	<i>Usar el coche siempre que puedas.</i>

Escribe dos cosas que sueles hacer tú para cuidar el medio ambiente.

Completa



Nombre: _____

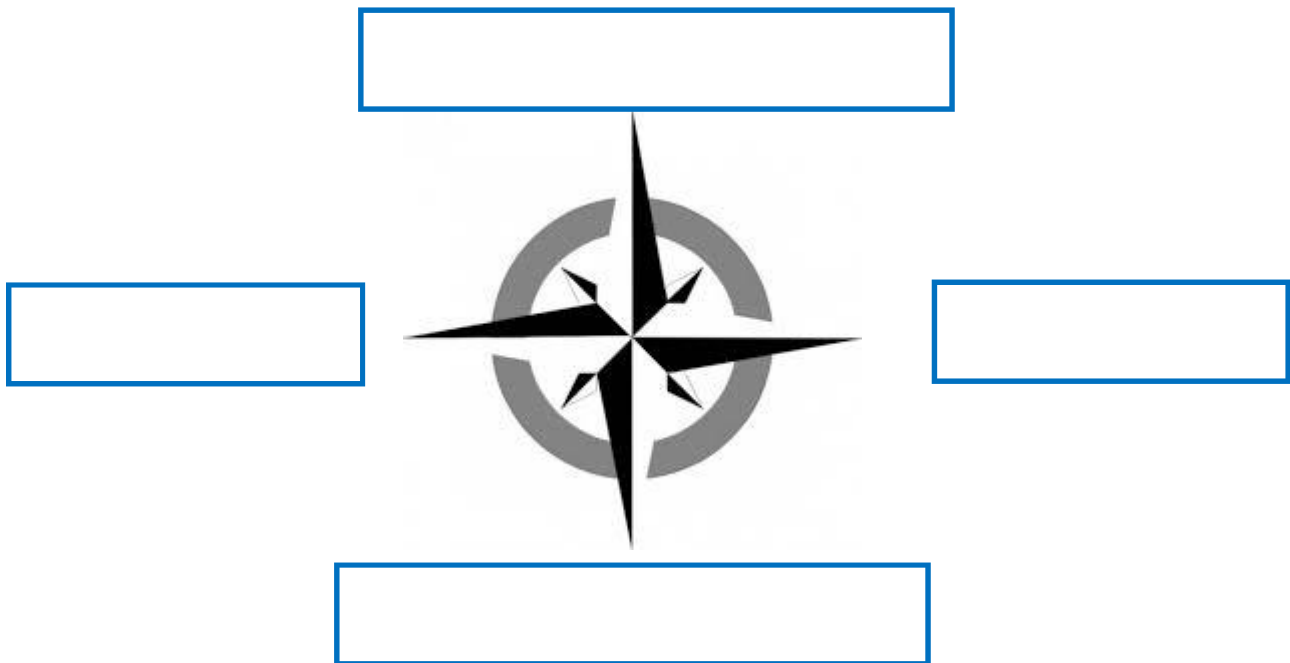
Clasifica los animales

MAMÍFEROS	AVES	PECES	REPTILES	INSECTOS	ANFIBIOS

Nombre: _____

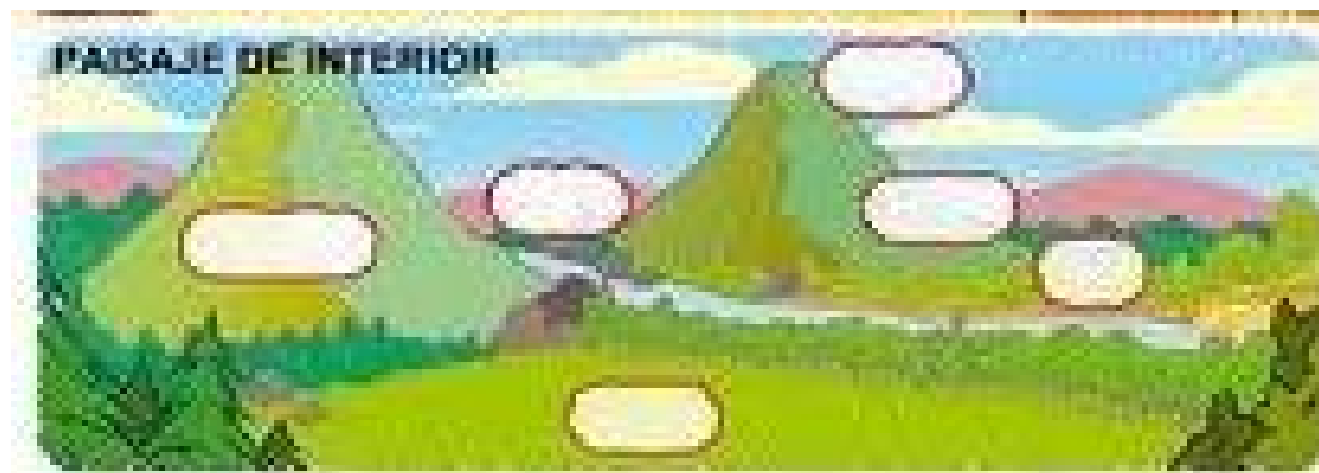
Enumera varios elementos que puedes ver en un paisaje de costa.

Completa los puntos cardinales



Nombre: _____

Completa los elementos del paisaje



Montaña, isla, valle, ladera, playa, pie, llanura, cima, acantilado



Nombre: _____

Completa

El Sol es una _____ que nos da _____ y _____.
La luz que nos llega del Sol cambia a lo largo del _____
desde el _____ al _____.

Escribe algo que haces en cada una de las partes del día

Al amanecer:

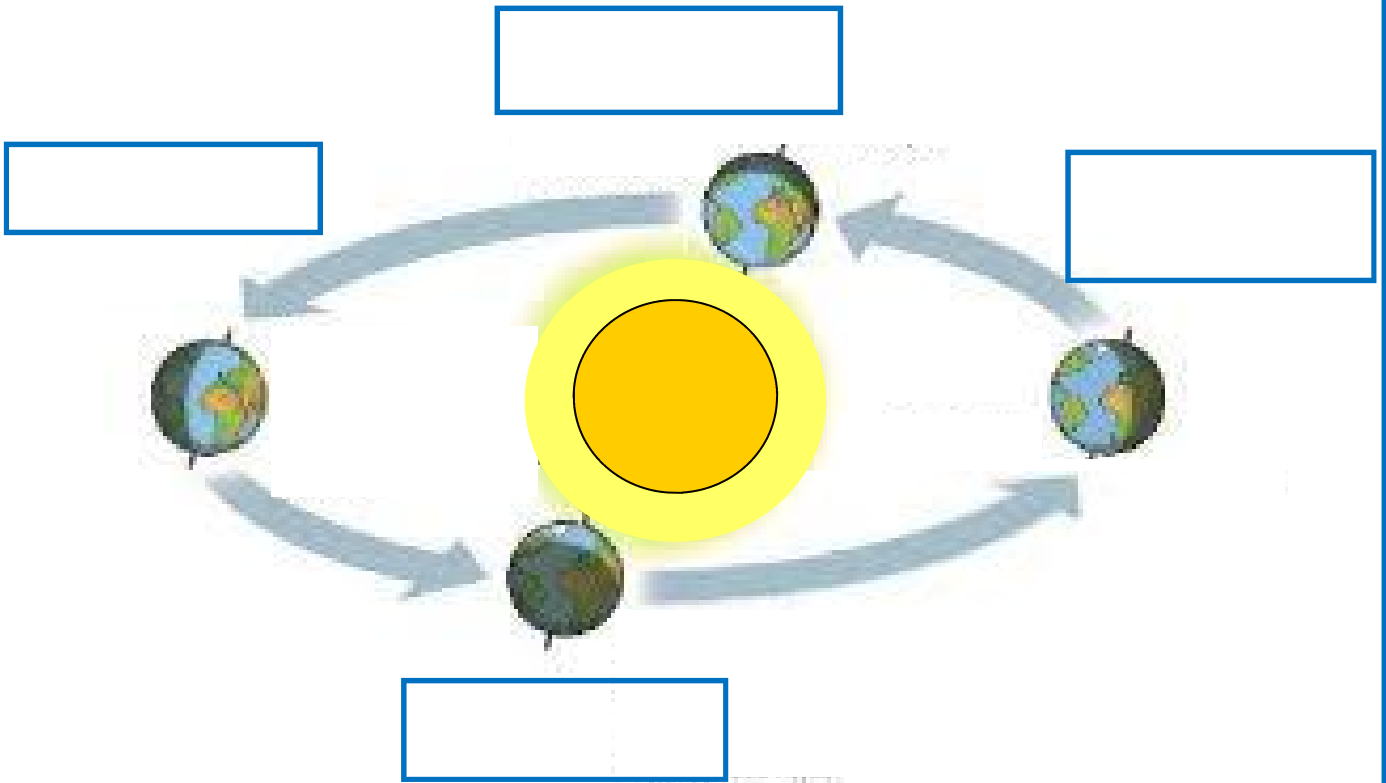
Al medio día:

Al atardecer:

¿Cuánto tiempo tarda la Tierra en dar una vuelta completa sobre sí misma?

Nombre: _____

Escribe el nombre de cada estación



¿Cuáles son las cuatro fases de la luna?

Nombre: _____

¿Qué partes tienen todas las plantas? Nombra las partes y dibuja una planta, señalando sus partes.

¿Qué tipos de plantas son? Coloca cada una en su lugar correspondiente.

Tulipán, encina, boj, abeto, laurel, pino, tomillo, menta,


Árbol

Arbusto

Hierba

Nombre: _____

¿En qué estado podemos encontrar el agua? Dibuja el agua en cada uno de los estados.





Clasifica los siguientes elementos del paisaje.

Sierras, acantilados, playas, bosques, colinas, cultivos

Montaña

Llanura

Costa



Nombre: _____

Escribe dos problemas del medio ambiente.

Dibuja las distintas posiciones de la Tierra al girar alrededor del Sol.