

# Matemáticas. 2º Primaria Repaso Tercer Trimestre.

Nombre: \_\_\_\_\_

*Completa*

NÚMERO	C	D	U	
832				$800 + 30 + 2$
	4	0	8	
				$200 + 40 + 9$
598				
	2	1	0	
				$300 + 70 + 4$
172				
	8	0	6	
				$600 + 50 + 9$

*Continúa la serie*

600	603	606				
						639
						660

$$30 + 15 =$$

$$2 \times 6 =$$

Nombre: \_\_\_\_\_

Completa la serie

5 C	6 C	7 C	8 C			20 C
5 00				900	1000	

En casa tengo cuatro estuches con 12 lápices cada uno.  
¿Cuántos lápices tengo en total?

Resultado

Suma 11

30	41	52						118
----	----	----	--	--	--	--	--	-----

**Nombre:** \_\_\_\_\_

Mario tenía 46 canicas, ha perdido 25 y le ha dado a su hermano 13. ¿Cuántas canicas le quedan?

Resultado

Completa

$$\boxed{297} \rightarrow \boxed{\phantom{0}} C \boxed{\phantom{0}} D \boxed{\phantom{0}} U$$

$$\boxed{563} \rightarrow \boxed{\phantom{0}} C \boxed{\phantom{0}} D \boxed{\phantom{0}} U$$

$$\boxed{509} \rightarrow \boxed{\phantom{0}} C \boxed{\phantom{0}} D \boxed{\phantom{0}} U$$

$$\boxed{\phantom{000}} \rightarrow \boxed{9} C \boxed{5} D \boxed{9} U$$

$$\boxed{\phantom{000}} \rightarrow \boxed{7} C \boxed{4} D \boxed{0} U$$

$$\boxed{844} \rightarrow \boxed{\phantom{0}} C \boxed{\phantom{0}} D \boxed{\phantom{0}} U$$

$$\boxed{\phantom{000}} \rightarrow \boxed{7} C \boxed{4} D \boxed{9} U$$



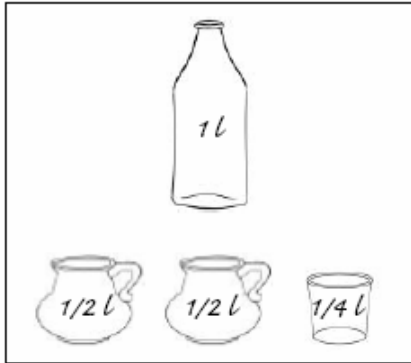
$$\boxed{421} \rightarrow \boxed{\phantom{0}} C \boxed{\phantom{0}} D \boxed{\phantom{0}} U$$

$$\boxed{\phantom{000}} \rightarrow \boxed{5} C \boxed{0} D \boxed{6} U$$

$$\boxed{654} \rightarrow \boxed{\phantom{0}} C \boxed{\phantom{0}} D \boxed{\phantom{0}} U$$

Nombre: \_\_\_\_\_

Colorea las equivalencias correctas



Observa las equivalencias y completa

$$1\text{kg} = \boxed{\frac{1}{2}\text{ Kg}} \boxed{\frac{1}{2}\text{ Kg}}$$

$$1\text{kg} = \boxed{\frac{1}{4}\text{ Kg}} \boxed{\frac{1}{4}\text{ Kg}} \boxed{\frac{1}{4}\text{ Kg}} \boxed{\frac{1}{4}\text{ Kg}}$$

$$\boxed{\frac{1}{2}\text{ Kg}} \boxed{\frac{1}{2}\text{ Kg}} \boxed{\frac{1}{2}\text{ Kg}} \boxed{\frac{1}{2}\text{ Kg}} = \boxed{\text{---- kg}}$$

$$\boxed{\frac{1}{2}\text{ Kg}} \boxed{\frac{1}{2}\text{ Kg}} \boxed{\frac{1}{2}\text{ Kg}} \boxed{\frac{1}{2}\text{ Kg}} \boxed{\frac{1}{2}\text{ Kg}} \boxed{\frac{1}{2}\text{ Kg}} = \boxed{\text{---- kg}}$$

$$\boxed{\frac{1}{4}\text{ Kg}} \boxed{\frac{1}{4}\text{ Kg}} \boxed{\frac{1}{4}\text{ Kg}} \boxed{\frac{1}{4}\text{ Kg}} \boxed{\frac{1}{4}\text{ Kg}} \boxed{\frac{1}{4}\text{ Kg}} \boxed{\frac{1}{4}\text{ Kg}} \boxed{\frac{1}{4}\text{ Kg}} = \boxed{\text{---- kg}}$$

**Nombre:** \_\_\_\_\_*Colorea los números pares de rojo y los impares de verde*

503

500

553

514

565

502

517

526

789

541

521

504

577

535

516

528

530

549

538

544

552

*Ordena de menor a mayor y escribe los nombres*

631

641

620

650

684

694

615

635

649

669

**Nombre:** \_\_\_\_\_*Coloca los números y calcula*

$327 + 452$

$789 + 342$

$912 + 432$

$452 - 310$

$865 - 332$

$654 - 234$

$452 \times 3$

$564 \times 5$

$807 \times 4$

*Eva comió 54 yogures el mes pasado, Luis 23 y Olga 10. Y aún les quedan 24 yogures sin comer ¿Cuántos yogures tenían?*

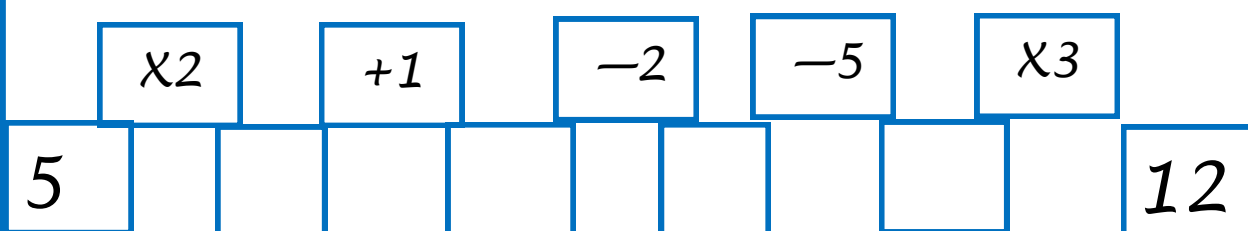
*Resultado*

**Nombre:** \_\_\_\_\_

*Pedro ha vendido 25 Kilos de peras. Cada Kilo lo ha 2 euros ¿Cuánto dinero ha obtenido?*

*Laura tiene 12 billetes de 5 euros y su hermano Alejandro tiene otros 8 billetes. ¿Cuánto dinero tienen entre los dos?*

*Completa la serie*



## Matemáticas. 2º Primaria Repaso Tercer Trimestre.

Nombre: \_\_\_\_\_

### Problemas

Un grupo de 124 personas van a entrar a un museo. Cada entrada cuesta 3 euros. En el grupo hay 35 niños que entran gratis. ¿Cuánto pagan en total?

### Resultado

Paula tenía 567 euros. Gasto 234 euros en un colchón y ha cobrado ahora 112 euros por un trabajo. ¿Cuánto dinero tiene ahora?






### Resultado



# Matemáticas. 2º Primaria Repaso Tercer Trimestre.

Nombre: \_\_\_\_\_

*Escribe la hora que corresponde*



$$32 - 12 =$$

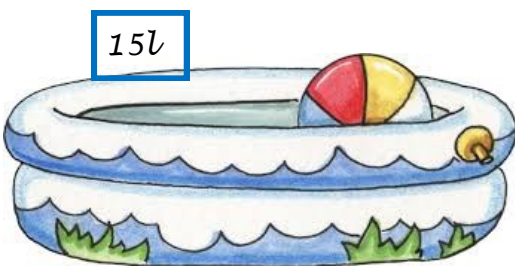
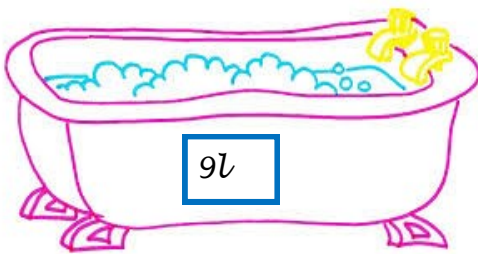
$$5 \times 4 =$$

Nombre: \_\_\_\_\_

¿Cuántas botellas necesitas para llenarlo?



1 litro



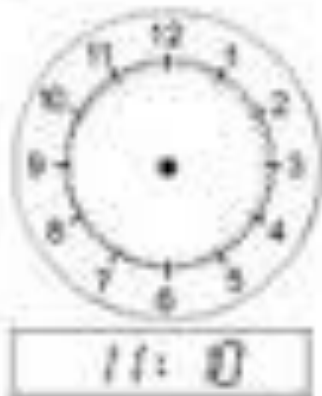
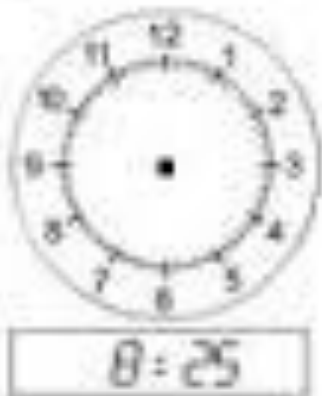
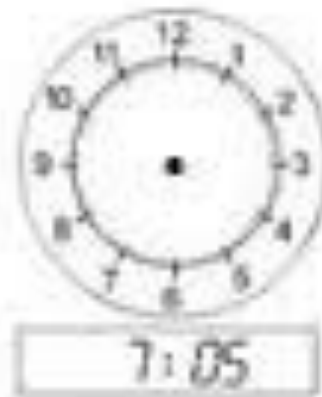
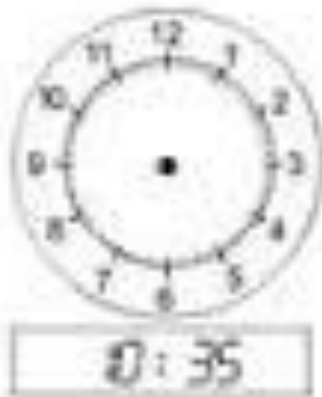
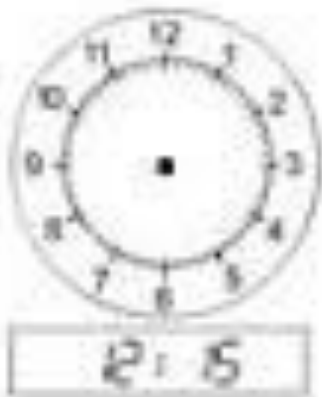
$$36 - 26 =$$

$$9 \times 4 =$$

# Matemáticas. 2º Primaria Repaso Tercer Trimestre.

Nombre: \_\_\_\_\_

*Dibuja las agujas y escribe la hora que corresponde*



$$32 - 12 =$$

$$5 \times 4 =$$

# Matemáticas. 2º Primaria Repaso Tercer Trimestre.

Nombre: \_\_\_\_\_

*Escribe estas sumas como multiplicaciones y resuelve*

$5+5+5 =$

$\square \longrightarrow \square \times \square = \square$

$3+3+3+3+3 =$

$\square \longrightarrow \square \times \square = \square$

$6+6+6+6 =$

$\square \longrightarrow \square \times \square = \square$

$2+2+2+2+2+2 =$

$\square \longrightarrow \square \times \square = \square$

$7+7+7 =$

$\square \longrightarrow \square \times \square = \square$

$25+25 =$

$\square \longrightarrow \square \times \square = \square$

$12+12+12 =$

$\square \longrightarrow \square \times \square = \square$

$9+9+9 +9=$

$\square \longrightarrow \square \times \square = \square$

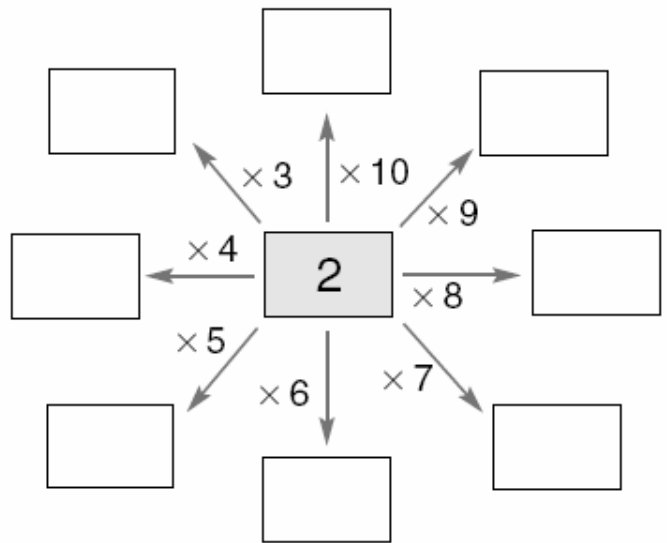
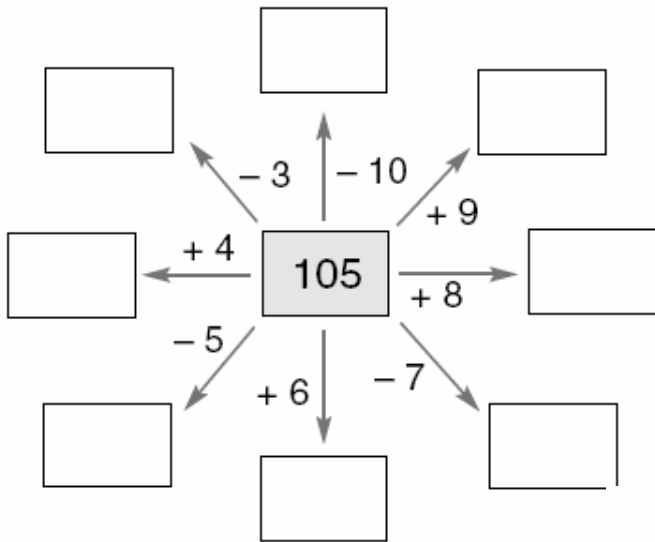
*En una granja hay 12 gallinas y el doble de patos.  
¿Cuántos patos y gallinas hay en total?*

*Resultado*

# Matemáticas. 2º Primaria Repaso Tercer Trimestre.

Nombre: \_\_\_\_\_

Completa



Calculo

$10 - 8 =$

$10 - 7 =$

$10 - 6 =$

$10 - 5 =$

$100 - 20 =$

$100 - 30 =$

$100 - 40 =$

$100 - 50 =$

**Nombre:** \_\_\_\_\_*Coloca los números y suma*

$521 + 430 + 387 =$

$708 + 129 + 860 =$

$912 - 143 =$

$624 - 378 =$

$345 \times 3 =$

$219 \times 5 =$

$765 \times 4 =$

$348 \times 6 =$

*Multiplica*

$3 \times 4 =$

$7 \times 9 =$

$8 \times 2 =$

$4 \times 5 =$

$5 \times 6 =$

$9 \times 3 =$

## Matemáticas. 2º Primaria Repaso Tercer Trimestre.

Nombre: \_\_\_\_\_

*Suma y escribe como se lee el número, después ordena de mayor a menor*

$600 + 30 + 5 =$

$100 + 60 + 4 =$

$800 + 20 + 9 =$

$500 + 50 + 3 =$

*Escribe el número anterior y posterior*

<input type="text"/>	←	923	→	<input type="text"/>	<input type="text"/>	←	651	→	<input type="text"/>
----------------------	---	-----	---	----------------------	----------------------	---	-----	---	----------------------

<input type="text"/>	←	415	→	<input type="text"/>	<input type="text"/>	←	719	→	<input type="text"/>
----------------------	---	-----	---	----------------------	----------------------	---	-----	---	----------------------

<input type="text"/>	←	547	→	<input type="text"/>	<input type="text"/>	←	309	→	<input type="text"/>
----------------------	---	-----	---	----------------------	----------------------	---	-----	---	----------------------

<input type="text"/>	←	702	→	<input type="text"/>	<input type="text"/>	←	451	→	<input type="text"/>
----------------------	---	-----	---	----------------------	----------------------	---	-----	---	----------------------

**Nombre:** \_\_\_\_\_

*Tengo 20 plátanos y el doble de naranjas. ¿Cuántas frutas tengo en total?*

*Resultado*

*Escribe los números y relaciónalos*

<i>Noventa y cuatro</i>		$2C + 1D + 5U$
<i>Ciento doce</i>		$2C + 2D + 2U$
<i>Ciento veintidós</i>		$0C + 9D + 4U$
<i>Doscientos treinta y seis</i>		$1C + 1D + 2U$
<i>Doscientos quince</i>		$2C + 3D + 6U$



**Matemáticas. 2º Primaria Repaso Tercer Trimestre.**

**Nombre:** \_\_\_\_\_

*En el jardín han florecido 36 rosas y 16 claveles más que rosas. He arrancado 12 flores para un ramo.  
¿Cuántas flores quedan?*

*Resultado*

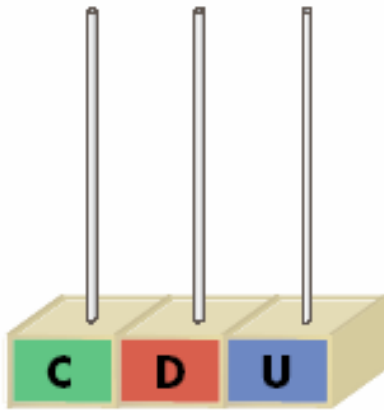
*En una excursión van 4 autobuses con 36 niños cada uno. Y además hay 24 niños que van en coche. ¿Cuántos niños van en total a la excursión?*

*Resultado*

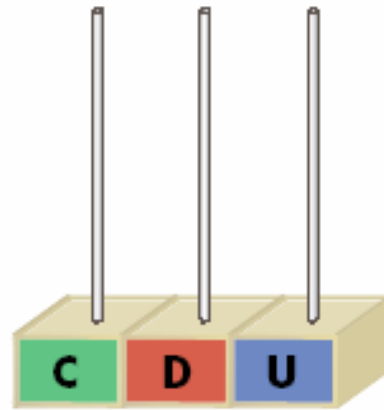
# Matemáticas. 2º Primaria Repaso Tercer Trimestre.

Nombre: \_\_\_\_\_

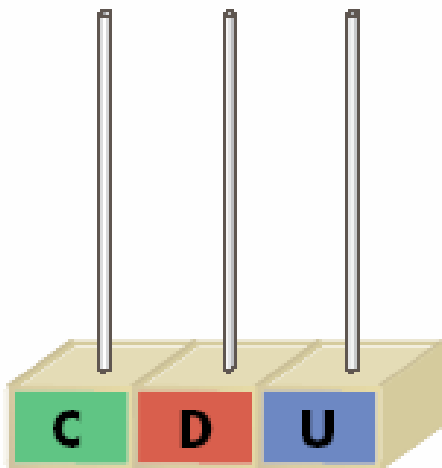
*Dibuja las centenas, decenas y unidades, y después rodea los números pares.*



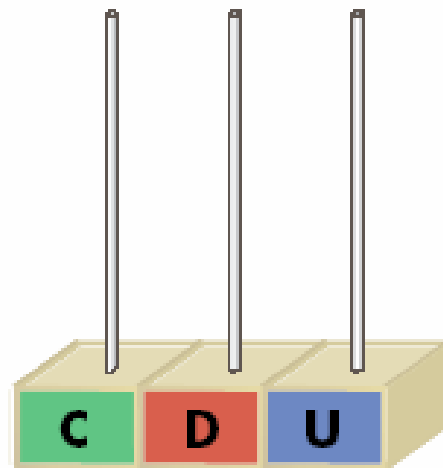
748



715



786




702

$$30 + 45 =$$


$$12 \times 6 =$$

Nombre: \_\_\_\_\_


*Dibuja las agujas y señala la hora que es*




13:00




1:05




14:15




2:35




15:25




3:45




18:00




4:00




12:00



17:35



9:20



20:00

*Suma 15*

10

25

40

130

**Nombre:** \_\_\_\_\_*Coloca y calcula*

$$807 + 432 + 177$$

$$342 + 569 + 219$$

$$807 - 497$$

$$543 - 265$$

*Hay dos carteros. Jorge el cartero ha repartido 136 Cartas y Marta ha repartido 129 cartas mas que Jorge. ¿Cuántas cartas ha repartido Marta?*

*Resultado*

**Nombre:** \_\_\_\_\_

*Escribe el signo mayor > o menor < según corresponda*

341

340

232

134

521

519

450

449

468

540

657

567

*Completa*

NÚMERO	C	D	U	
129				$100 + 20 + 9$
	8	4	0	
				$200 + 70 + 4$
659				
	9	0	5	
				$700 + 30 + 1$
628				

**Matemáticas. 2º Primaria Repaso Tercer Trimestre.**

**Nombre:** \_\_\_\_\_

*David tiene 10 cromos, Hugo tiene el doble de cromos que David y Cristina tiene la mitad que David.  
¿Cuántos cromos tienen entre los tres?*

*Resultado*

*He comprado cuatro kilos de manzanas y tres kilos de plátanos. Si las manzanas cuestan a 3 euros el kilo y los plátanos a 2 euros el kilo y he pagado con un billete de 20 euros. ¿Cuánto dinero me devuelven?*

*Resultado*

Nombre: \_\_\_\_\_

*Une según corresponda*

75 decenas

87 decenas

8 C + 3 D + 4 U

750

800 + 70

6 C + 8 D + 5 U

685 unidades

800 + 30 + 4


*Colorea según el código*

azul → 843

marrón → 736

verde oscuro → 658

verde claro → 575



$210 - 9 =$

$6 \times 7 =$

# Matemáticas. 2º Primaria Repaso Tercer Trimestre.

Nombre: \_\_\_\_\_

Observa las equivalencias y completa

$$1 \text{ kg} = \begin{array}{|c|} \hline 1/2 \text{ Kg} \\ \hline \end{array} + \begin{array}{|c|} \hline 1/2 \text{ Kg} \\ \hline \end{array}$$

$$1 \text{ kg} = \begin{array}{|c|} \hline 1/4 \\ \hline \text{Kg} \\ \hline \end{array} + \begin{array}{|c|} \hline 1/4 \\ \hline \text{Kg} \\ \hline \end{array} + \begin{array}{|c|} \hline 1/4 \\ \hline \text{Kg} \\ \hline \end{array} + \begin{array}{|c|} \hline 1/4 \\ \hline \text{Kg} \\ \hline \end{array}$$

$$\begin{array}{|c|} \hline 1/2 \text{ Kg} \\ \hline \end{array} + \begin{array}{|c|} \hline 1/2 \text{ Kg} \\ \hline \end{array} + \begin{array}{|c|} \hline 1/2 \text{ Kg} \\ \hline \end{array} + \begin{array}{|c|} \hline 1/2 \text{ Kg} \\ \hline \end{array} = \begin{array}{|c|} \hline \text{--- kg} \\ \hline \end{array}$$
  
$$\begin{array}{|c|} \hline 1/2 \text{ Kg} \\ \hline \end{array} + \begin{array}{|c|} \hline 1/2 \text{ Kg} \\ \hline \end{array} + \begin{array}{|c|} \hline 1/2 \text{ Kg} \\ \hline \end{array} + \begin{array}{|c|} \hline 1/2 \text{ Kg} \\ \hline \end{array} = \begin{array}{|c|} \hline \text{--- kg} \\ \hline \end{array}$$

$$\begin{array}{|c|} \hline 1/4 \\ \hline \text{Kg} \\ \hline \end{array} + \begin{array}{|c|} \hline 1/4 \\ \hline \text{Kg} \\ \hline \end{array} + \begin{array}{|c|} \hline 1/4 \\ \hline \text{Kg} \\ \hline \end{array} + \begin{array}{|c|} \hline 1/4 \\ \hline \text{Kg} \\ \hline \end{array} + \begin{array}{|c|} \hline 1/4 \\ \hline \text{Kg} \\ \hline \end{array} + \begin{array}{|c|} \hline 1/4 \\ \hline \text{Kg} \\ \hline \end{array} + \begin{array}{|c|} \hline 1/4 \\ \hline \text{Kg} \\ \hline \end{array} + \begin{array}{|c|} \hline 1/4 \\ \hline \text{Kg} \\ \hline \end{array} = \begin{array}{|c|} \hline \text{--- kg} \\ \hline \end{array}$$
  
$$\begin{array}{|c|} \hline 1/4 \\ \hline \text{Kg} \\ \hline \end{array} + \begin{array}{|c|} \hline 1/4 \\ \hline \text{Kg} \\ \hline \end{array} + \begin{array}{|c|} \hline 1/4 \\ \hline \text{Kg} \\ \hline \end{array} + \begin{array}{|c|} \hline 1/4 \\ \hline \text{Kg} \\ \hline \end{array} + \begin{array}{|c|} \hline 1/4 \\ \hline \text{Kg} \\ \hline \end{array} + \begin{array}{|c|} \hline 1/4 \\ \hline \text{Kg} \\ \hline \end{array} + \begin{array}{|c|} \hline 1/4 \\ \hline \text{Kg} \\ \hline \end{array} + \begin{array}{|c|} \hline 1/4 \\ \hline \text{Kg} \\ \hline \end{array} = \begin{array}{|c|} \hline \text{--- kg} \\ \hline \end{array}$$



# Matemáticas. 2º Primaria Repaso Tercer Trimestre.

Nombre: \_\_\_\_\_

*Completa y corrige*

<div style="border: 1px solid black; padding: 5px; display: inline-block;"><math>629</math> <math>- 426</math></div> → <div style="border: 1px solid black; width: 100px; height: 30px; display: inline-block;"></div>	<div style="border: 1px solid black; padding: 5px; display: inline-block;"><math>568</math> <math>- 234</math></div> → <div style="border: 1px solid black; width: 100px; height: 30px; display: inline-block;"></div>
<div style="border: 1px solid black; padding: 5px; display: inline-block;"><math>214</math></div> → <div style="border: 1px solid black; width: 100px; height: 30px; display: inline-block;"></div>	<div style="border: 1px solid black; padding: 5px; display: inline-block;"><math>323</math></div> → <div style="border: 1px solid black; width: 100px; height: 30px; display: inline-block;"></div>
<hr style="width: 100%; border: 0.5px solid black;"/>	<hr style="width: 100%; border: 0.5px solid black;"/>
<div style="border: 1px solid black; width: 100px; height: 30px; display: inline-block;"></div>	<div style="border: 1px solid black; width: 100px; height: 30px; display: inline-block;"></div>

*A Paula le han regalado 145 cromos, ha Pedro le han regalado 46 cromos más que a Paula ¿Cuántos cromos le han regalado a Pedro?*

*Resultado*

**Nombre:** \_\_\_\_\_*Ordena de menor a mayor y escribe los nombres*

541

529

538

501

524

594

512

590

509

532

*Multiplica*

$6 \times 4 =$

$8 \times 9 =$

$5 \times 8 =$

$9 \times 4 =$

$7 \times 3 =$

$4 \times 7 =$

$9 \times 5 =$

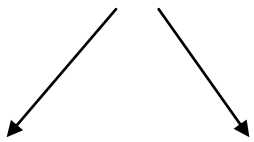
$8 \times 3 =$

# Matemáticas. 2º Primaria Repaso Tercer Trimestre.

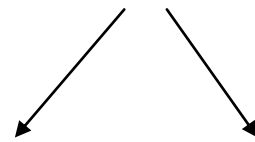
Nombre: \_\_\_\_\_

*Realiza las sumas y saca dos restas de cada una*

$$\begin{array}{r} 346 \\ + 472 \\ \hline \end{array}$$

  
—  
—

$$\begin{array}{r} 218 \\ + 549 \\ \hline \end{array}$$

  
—  
—

*Suma y escribe como se lee el número*

$500 + 40 + 9 =$

$800 + 20 + 3 =$

$400 + 60 + 7 =$

**Nombre:** \_\_\_\_\_

*Escribe el número anterior y posterior*

<input type="text"/>	←	567	→	<input type="text"/>	<input type="text"/>	←	492	→	<input type="text"/>
<input type="text"/>	←	936	→	<input type="text"/>	<input type="text"/>	←	377	→	<input type="text"/>
<input type="text"/>	←	201	→	<input type="text"/>	<input type="text"/>	←	643	→	<input type="text"/>
<input type="text"/>	←	503	→	<input type="text"/>	<input type="text"/>	←	717	→	<input type="text"/>

*Escribe los números y relaciónalos*

<i>Ciento veinticuatro</i>	<input type="text"/>	$2C + 0D + 9U$
<i>Trescientos diez</i>	<input type="text"/>	$1C + 4D + 0U$
<i>Ciento cuarenta</i>	<input type="text"/>	$2C + 1D + 6U$
<i>Doscientos dieciséis</i>	<input type="text"/>	$1C + 2D + 4U$
<i>Doscientos nueve</i>	<input type="text"/>	$3C + 1D + 0U$

**Nombre:** \_\_\_\_\_

*En un colegio hay 432 niños y niñas En otro colegio hay 129 niños y niñas menos. Y en un tercer colegio hay 243 niños y niñas más que en el segundo.  
¿Cuántos niños y niñas hay en cada colegio?*

*Completa*

Tengo 9 C, 7 D y 4 U. Soy el  $\longrightarrow$

Tengo 18 unidades menos que el 957  $\longrightarrow$

Tengo 4 decenas más que el 923  $\longrightarrow$

Tengo tres 9 repetidos  $\longrightarrow$

Soy la suma de 900 más 60 más 8  $\longrightarrow$

**Matemáticas. 2º Primaria Repaso Tercer Trimestre.**

**Nombre:** \_\_\_\_\_

*Sí tengo cuatro cajas de galletas con 56 galletas en cada caja. ¿Cuántas galletas tengo en total?*

*Laura tiene 34 globos, Alejandro tiene el doble de globos que Laura y Miriam tiene la mitad que Laura. ¿Cuántos globos tienen entre los tres?*