


Nombre: _____

Completa.

El territorio de España está formado por _____ Comunidades
Autónomas y las ciudades autónomas de _____ y
_____.

Indica si los siguientes animales son vertebrados o
invertebrados y a que grupo pertenecen,



Nombre: _____

Escribe el nombre de cada comunidad autónoma donde corresponda



Nombre: _____

Escribe el nombre de las provincias que forman cada comunidad autónoma..

Galicia:

Principado de Asturias:

Cantabria

País Vasco:

Navarra:

Aragón:

Cataluña:

Castilla y León:

La Rioja:

Comunidad de Madrid:

Extremadura:

Castilla la Mancha:

Comunidad Valenciana:

Islas Baleares:

Andalucía:

Región de Murcia:

Islas Canarias:

Nombre: _____

*¿En que municipio vives? ¿A qué provincia pertenece?
¿En qué comunidad está?*

Define

Municipio:

Comarca:

Nombre: _____

Completa la tabla.

REINO	MONERAS	PROTOCTISTAS	HONGOS	PLANTAS	ANIMALES
CARACTERÍSTICAS					
EJEMPLOS					
TIPO DE CÉLULAS <i>(con núcleo o sin núcleo)</i>					
<i>Forman tejidos o no forman tejidos</i>					

Nombre: _____

Sitúa en el mapa las principales formas de relieve del territorio español



Ríos: Miño, Duero, Tago, Guadiana, Guadalquivir, Ebro, Júcar, Segura.

Meseta, Submeseta Norte y Submeseta Sur.

*Pirineos, Cordilleras Béticas, Cordillera costero catalana, Sistema Central, Sistema Ibérico, Macizo Galaico, Montes de León, Cordillera Cantábrica, Sierra Morena, Montes Vascos
Depresión del Ebro*

Nombre: _____

Qué es el crecimiento natural de la población

Qué es el crecimiento migratorio de la población

¿Qué es la población? ¿Cuándo crece la población?

Nombre: _____

Responde las siguientes preguntas.

1. *¿Por qué decimos que las células están vivas?*

2. *¿Todos los seres vivos tienen el mismo número de células?*

3. *¿Cómo somos las personas: unicelulares o pluricelulares?*

4. *¿Cuáles son los niveles de organización de los seres vivos?*

Nombre: _____

¿Qué factores hay que tener en cuenta para saber si un territorio está muy poblado o no?

Explica con tus palabras lo que es la distribución de la población.

¿Por qué las montañas están poco pobladas?

Completa el cuadro.

ANIMALES	PLANTAS	HONGOS
<ul style="list-style-type: none">• Son pluricelulares• Se pueden desplazar• Toman alimentos		

Nombre: _____

Completa

Las plantas se dividen en plantas sin _____ y plantas con _____ . Entre las plantas sin _____ están los _____ y los _____. Entre las plantas con _____ están las _____ y las _____ .

Explica las diferencias entre la población rural y la población urbana

¿A qué tipo de actividades se dedican los habitantes de los pueblos?

Nombre: _____

¿Qué es el sector primario? ¿Cuáles son las principales actividades del sector primario?

Escribe el nombre de tres cultivos de secano y tres de regadío.

Nombre: _____

¿Qué es el sector secundario? ¿Cuáles son las principales actividades del sector?

Explica el significado de las siguientes expresiones

Ganadería extensiva


Ganadería intensiva

Piscifactoría

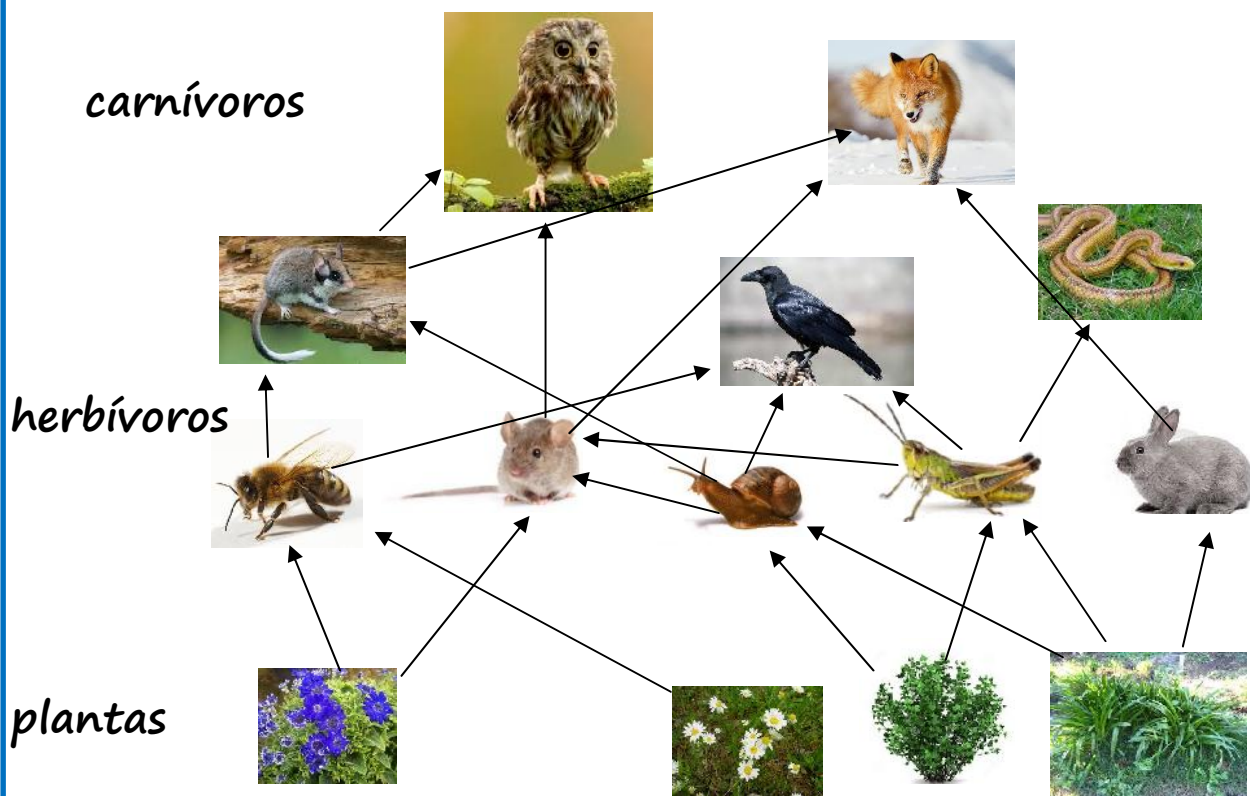
Nombre: _____

Observa la cadena y la red alimentaria y explica las relaciones que se producen en ambos casos.

Cadena Alimentaria



Red Alimentaria



Nombre: _____

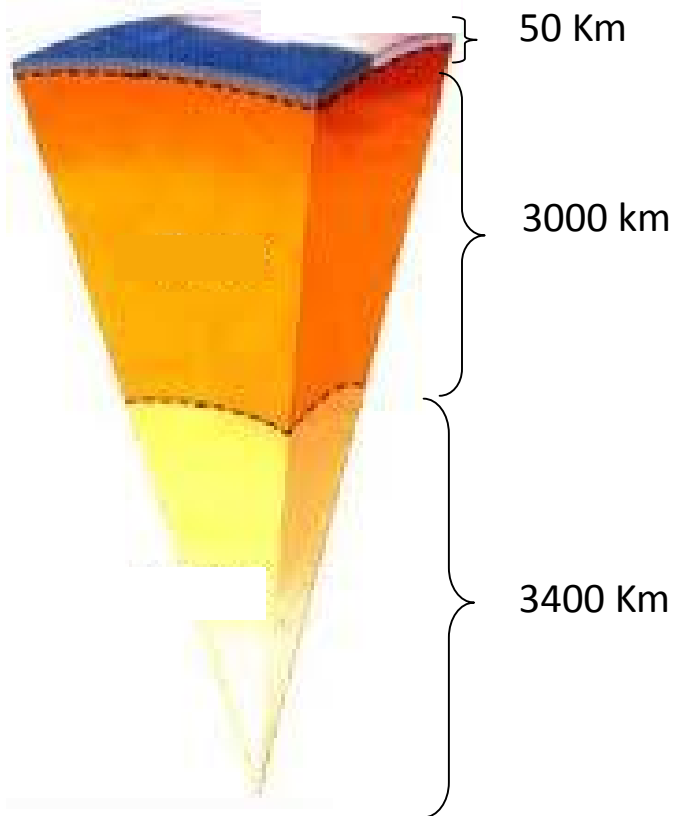
Enumera cuatro provincias que destaquen por su industria

¿Cuáles son los principales tipos de ganadería de tu comunidad?

¿Cuáles son los principales tipos de explotación minera de tu comunidad?

Nombre: _____

Pon los nombres de las capas de la Tierra: manto, núcleo y corteza, donde corresponda.



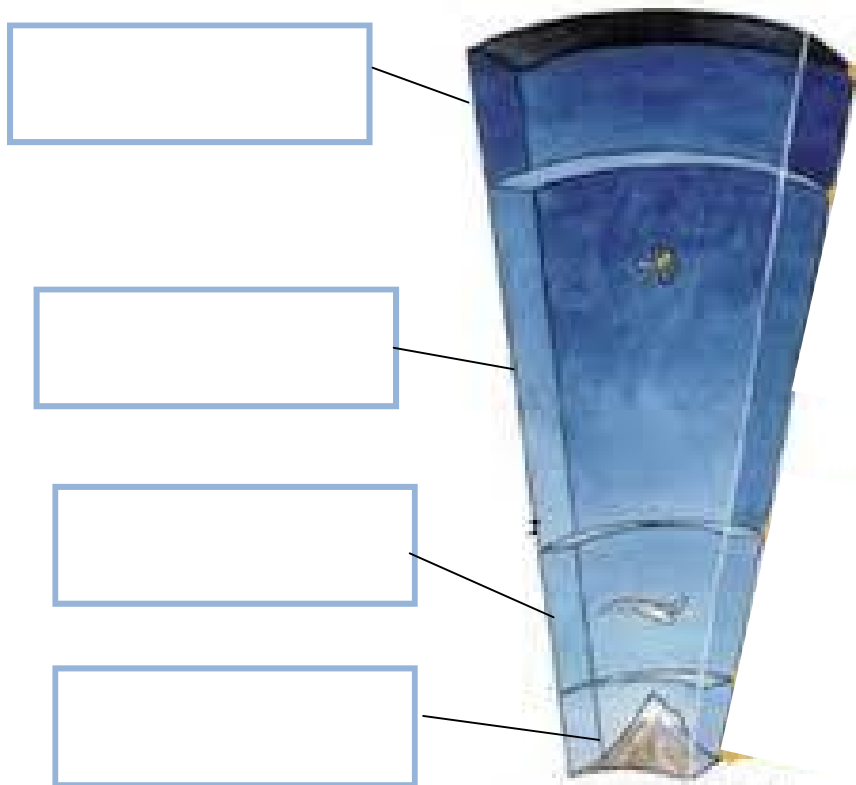
¿Cuál de las capas tiene mayor grosor?

¿En cuál habitamos las personas?

¿Qué es la hidrosfera?

Nombre: _____

Escribe los nombres de las capas de la atmósfera: troposfera, capas exteriores, estratosfera, espacio exterior.



¿En cual de las capas se encuentra la capa de ozono?

¿Cuáles son los gases que componen la atmósfera?

¿Por qué el ozono es importante para los seres vivos?

Nombre: _____

Responde

¿En que consiste el sector terciario?

Enumera cuatro actividades del sector

¿Qué es el comercio?

Define qué es el productor, el consumidor y el comerciante.

Explica que es el comercio mayorista y el minorista.

Nombre: _____

Responde

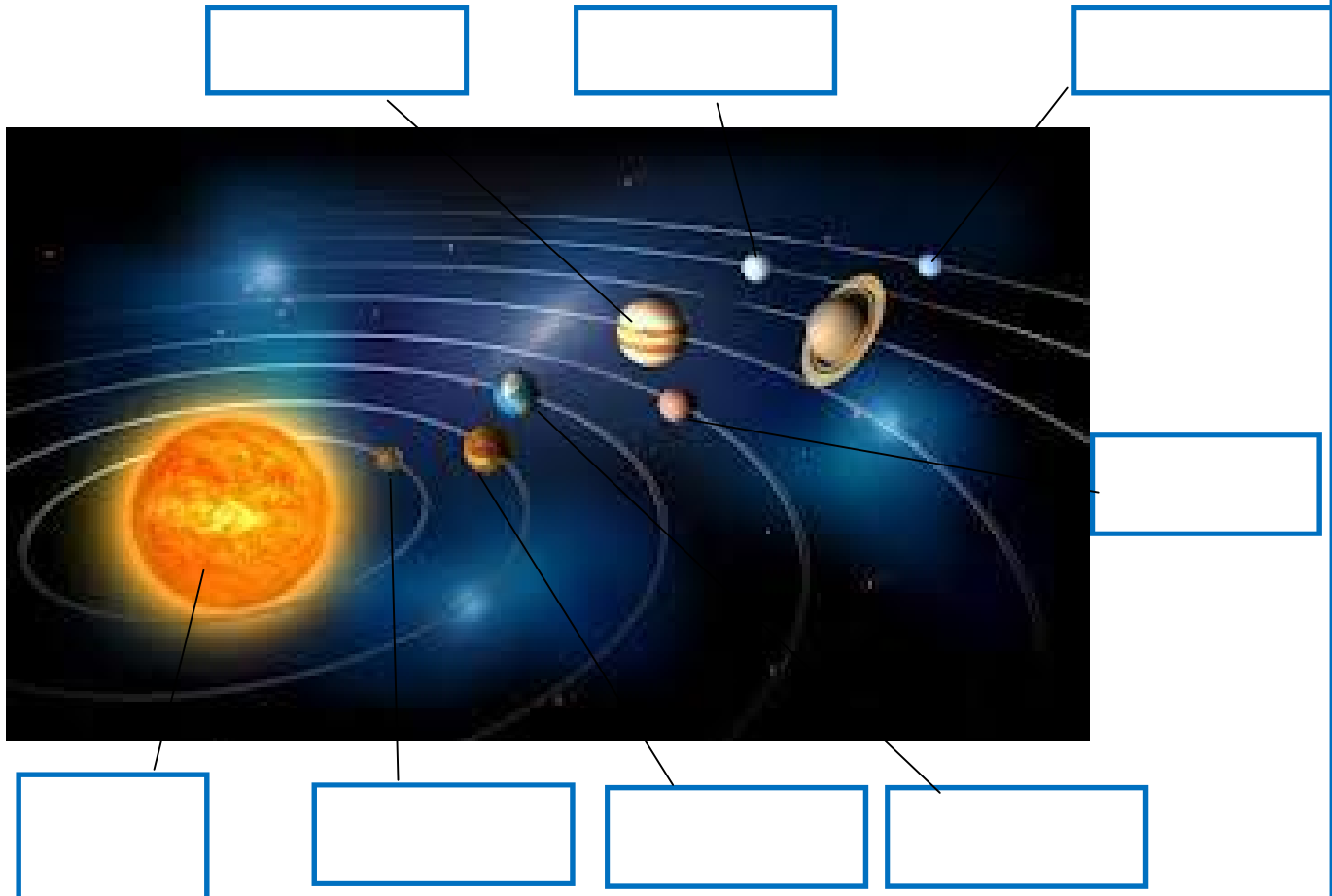
Explica qué es el transporte y que elementos son necesarios para que se desarrolle la actividad.

¿Qué tipos de transporte hay en tu comunidad? Explica cada uno de ellos.

Describe el último viaje que hayas hecho. ¿Qué medios de comunicación y de transporte empleaste?

Nombre: _____

El Sistema Solar. Escribe los nombres donde corresponda



Saturno, La Tierra, Júpiter, Venus, Urano, Mercurio, Sol, Marte, Plutón.

¿Cuáles son los planetas interiores?

¿Y los exteriores?

Nombre: _____

¿Qué es el turismo?

Define los siguientes tipos de turismo:

- Turismo de costa.*
- Turismo relacionado con la naturaleza.*
- Turismo para la salud.*
- Turismo cultural.*

¿Qué es un medio de comunicación?

¿Cómo se clasifican los medios de comunicación?

Nombra tres ejemplos de cada tipo.

Nombre: _____

Explica que son

Telefonía móvil

La televisión por satélite y por cable

Los ordenadores

Internet

El correo electrónico

Las páginas web

Nombre: _____

Completa.

Un ecosistema esta formado por un conjunto de _____ y el _____ donde viven.

Escoge la opción correcta:

Un municipio está formado por

- 1. Las localidades que forman una comarca*
- 2. Una o varias localidades gobernadas por un ayuntamiento.*

Una comarca es

- 1. Más grande que un municipio.*
- 2. Más pequeña que un municipio.*

Una comunidad autónoma esta formada por

- 1. Una o varias provincias con instituciones de gobierno propias.*
- 2. Una o varias provincias con instituciones comarcales propias.*

Nombre: _____

Responde.

1. ¿Qué representa una cadena alimentaria?

2. ¿Cuáles son los principales problemas de los ecosistemas?

3. ¿Cuándo ocurre la cooperación entre dos seres vivos? Pon un ejemplo.

4. ¿Cuándo ocurre la competencia entre dos seres vivos? Pon un ejemplo.

5. ¿Qué podemos hacer para proteger los ecosistemas?

6. ¿Qué es un meteorito?

Nombre: _____

Completa el mapa de España con el nombre de todas las Comunidades y provincias.



Nombre: _____

Dibuja tu comunidad autónoma y señala las principales formas de relieve.